

Describe estos personajes de la película:



•

---

---

---

---

---

---

---

---



•

---

---

---

---

---

---

---

---



•

---

---

---


---

---

---

---

---



•

---

---

---

---

---

---

---

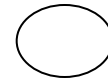
---

Busca estas palabras dentro de la sopa de letras:

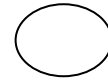
**MAMUT - TIGRE - SID - ZARIGÜEYA  
DORMILON - ARDILLA - HIELO -  
EXTINCIÓN - TRASLADO -**

A	M	A	M	U	T	B	R	S	O
Y	A	Ñ	A	R	I	P	H	M	E
E	C	T	X	Ü	Y	N	I	M	X
Ü	Z	V	H	S	W	O	E	Q	T
G	U	A	R	D	I	L	L	A	I
I	W	D	I	S	M	I	O	K	N
R	U	W	O	M	N	M	P	Q	C
A	I	A	R	Z	E	R	Y	M	I
Z	T	I	G	R	E	O	F	A	O
T	R	A	S	L	A	D	O	M	N

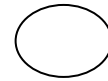
Marca con una cruz las frases que hacen referencia a lo que ocurre en la película:



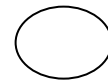
- El oso hormiguero le dice al mamut que debería estar extinguido.



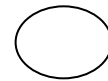
- Los animales van todos juntos a una fiesta preparada en el valle por el cumpleaños de la ardilla, que está preparando una tarta de bellotas.



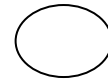
- Eddie cree que es una zarigüeya y se comporta como ellas. El mamut intenta hacerle ver que está equivocada.



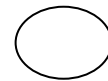
- La ardilla abre una grieta en el hielo haciendo que el agua salga del valle. De esta manera, salva a todos los animales de una inundación segura.



- El tigre comienza siendo un animal solitario y testarudo. Finalmente, resulta ser un gran compañero de todos los personajes de la historia









- Sid aparenta ser un animal un poco ignorante y despistado, pero realmente es muy inteligente y es el que mejor se expresa y habla con los demás.



- Las zarigüeyas son muy serias. No son amigas de nadie. Son muy lentas y son una presa fácil para los demás animales depredadores.

OBSERVA ESTOS PERSONAJES Y PON EL NOMBRE DE ANIMAL QUE SON Y SU NOMBRE EN LA PELÍCULA

OBSERVA A UNO DE LOS PROTAGONISTAS DE LA HISTORIA. PON EL NOMBRE DE LAS PARTES DE SU CUERPO.

Diagram for labeling the body parts of the character Scurry. The image shows Scurry holding an acorn. Ten empty boxes are provided for labeling the following parts of his body:

- Top-left box: points to the left eye.
- Top-middle box: points to the right eye.
- Top-right box: points to the right ear.
- Middle-left box: points to the snout.
- Middle-right box: points to the mouth.
- Bottom-left box: points to the chest.
- Bottom-middle box: points to the belly.
- Bottom-right box: points to the tail.
- Middle-bottom-left box: points to the left hand holding the acorn.
- Middle-bottom-right box: points to the right hand holding the acorn.

UNE CADA PERSONAJE CON SU NOMBRE Y SU CARACTERÍSTICA MÁS DESTACADA



**ELLIE**

**CUIDADOSO**



**SCRAT**

**TRAVIESAS**



**MANNY**

**TIERNA**




**SID**

**INGENIOSO**



**DIEGO**

**ORGULLOSO**



**CRASH Y EDDIE**

**DESAFORTUNADA**

Observa estos personajes y rodea los adjetivos que definen cómo son. (Su personalidad)



orgullosos	prudente	perezosa	sensible
simpático	falso	testaruda	valiente
solidario	chiflado	insegura	cascarrabias
soso	reservado	inteligente	segura
inteligente	inseguro	presumida	fiel
tranquilo	simpático	nerviosa	ingenua



UNE CADA PERSONAJE CON SU NOMBRE Y SU CARACTERÍSTICA MÁS DESTACADA



SI DIEGO NO FUESE ORGULLOSO SERÍA \_\_\_\_\_



SI ELLIE NO FUESE TIERNA SERÍA \_\_\_\_\_




SI LAS ZARIGÜEYAS NO FUESEN TRAVIESAS SERÍAN \_\_\_\_\_



SI SCRAT NO FUESE DESAFORTUNADA SERÍA \_\_\_\_\_




SI MANNY NO FUESE CUIDADOSO SERÍA \_\_\_\_\_




SI SID NO FUESE INGENIOSO SERÍA \_\_\_\_\_


ORDENA ESTAS FRASES DESORDENADAS DE SITUACIONES QUE OCURREN EN LA PELÍCULA


 zarigüeña. si comporta Ellie fuera una comporta como se
   
 ■


---


 se Los desplazan valle fuera animales del inundar. se porque va
   
 ■


---


 tigre acaba El siendo amigo Diego todos animales. de demás los
   
 ■

---












 está la toda ardilla película bellota intentando La su bellota. coger
   
 ■

---


 se Manny enamora El de Ellie mamut demás se los con mamuts. va y
   
 ■

---

Ordena estos adjetivos que tienen las letras desordenadas y escribe razonando por qué podemos decir de cada uno ese adjetivo.

	<p>ETVAILNE</p>		<p>•</p>
	<p>VIEDRDSAIT</p>		<p>•</p>
	<p>SIGNOEONI</p>		<p>•</p>
	<p>DATSEDIPIA</p>		<p>•</p>
	<p>SROGLLOUO</p>		<p>•</p>
	<p>MANEORDAO</p>		<p>•</p>






Encuentra 10 diferencias entre estos dos dibujos de la película




# Describe la evolución de los personajes a lo largo de la película.

AL PRINCIPIO DE LA PELÍCULA

AL FINAL DE LA PELÍCULA

■		■
■		■
■		■
■		■
■		■
■		■

Observa estas escenas de la película y haz un listado de todo lo que ves o crees que ocurre en ella.



- 

---

- 

---

- 

---

- 

---

- 

---


- 

---

- 

---

Colorea esta imagen siguiendo el texto de al lado.



- MARRÓN CLARO: EL TRONCO DE LOS ÁRBOLES
- MARRÓN OSCURO: EL PELO DE ELLIE
- AZUL: EL AGUA DEL RÍO
- VERDE: LAS HOJAS DE LOS ÁRBOLES.
- GRIS: LAS PEZUÑAS DE ELLIE.
- LILA: LOS OJOS DE ELLIE.
- NARANJA: LA TIERRA.
- GRIS: LAS PIEDRAS.





## ZONA DE MATEMÁTICAS

Resuelve estos problemas que podrían plantearse en distintos momentos de la película.

Sid, Diego y Manny recorren juntos 135 km entonces conocen a Ellie y las zarigüeyas y continúan juntos el camino. Recorriendo Sid, Diego y Manny un total de 498 Km ¿Cuántos kilómetros recorrieron Ellie y las Zarigüeyas?

Ellie inclinando una rama lanzó volando a las Zarigüeyas. Primero lanzó a Crash a 650 m y luego a Eddie a 935 m. ¿Cuántos metros lanzó más a Eddie que a Crash?

Si la Edad de Hielo fue en el año 20.000 antes del año 0. Y teniendo en cuenta que estamos en el año 2009. ¿Cuántos años hace que ocurrió?

La ardilla Scratt escaló con su bellota el dique haciendo agujeros. Tenía que hacer 85 agujeros hasta llegar a la cima pero se empezó agrietar el dique a partir del agujero 73. ¿Cuántos agujeros le quedaban por hacer para que estallara el dique?

## ZONA DE MATEMÁTICAS

Resuelve estos problemas que podrían plantearse en distintos momentos de la película.

Scratt persigue a la bellota constantemente a lo largo de la película. Tiene la bellota en sus manos 15 veces durante 52 segundos cada vez. ¿Cuántos segundos la tiene en total?

Si la Edad de Hielo fue en el año 20.000 antes del año 0. Y teniendo en cuenta que estamos en el año 2009. ¿Cuántos años hace que ocurrió? ¿Y cuántos años tendría Diego ahora si tenía 30 en la Edad de Hielo?

Si Manny en cada paso que da avanza 8 metros y Diego avanza 2 metros. ¿Cuántos pasos tendrá que dar Diego para andar un paso de Manny?

Y si Diego da 32 pasos ¿Cuántos pasos tendrá que dar Manny para recorrer la distancia que anduvo Diego?

Manny pesa 1500 kg, Ellie 1000kg y Diego 450 kg ¿Cuántos kilos pesará Sid si Ellie, Diego y Sid pesan lo mismo que Manny?

## ZONA DE MATEMÁTICAS

Resuelve estos problemas que podrían plantearse en distintos momentos de la película.

<p>Scratt persigue a la bellota constantemente a lo largo de la película. Tiene la bellota en sus manos 15 veces durante 52 segundos cada vez. ¿Cuántos segundos la tiene en total?</p>	<p>Si la Edad de Hielo fue en el año 20.000 antes del año 0. Y teniendo en cuenta que estamos en el año 2009. ¿Cuántos años hace que ocurrió? ¿Y cuántos años tendría Diego ahora si tenía 30 en la Edad de Hielo?</p>
<p>Si Manny en cada paso que da avanza 8 metros y Diego avanza 2 metros. ¿Cuántos pasos tendrá que dar Diego para andar un paso de Manny? Y si Diego da 32 pasos ¿Cuántos pasos tendrá que dar Manny para recorrer la distancia que anduvo Diego?</p>	<p>Manny pesa 1500 kg, Ellie 1000kg y Diego 450 kg ¿Cuántos kilos pesará Sid si Ellie, Diego y Sid pesan lo mismo que Manny?</p>

# ZONA DE MATEMÁTICAS

Resuelve estos problemas que podrían plantearse en distintos momentos de la película.

Escribe el nombre de los principales personajes de la película y luego tienes que averiguar cuantas vocales y cuantas consonantes hay en total.


Observa este personaje de la película. Cuéntal cuántas veces está repetido y pon el número total. Luego debes escribir el número anterior y el posterior.



--	--	--

# ICE AGE 2

